



Предмет:	География	Дата проведения:	07.11.18	Класс: 10	Шифр: А-3	3	
Задания:	Тестовый раунд	Теоретический раунд	Итог балл:	Итог процент:			
Балл:	15	24,5	39,5	58			
Эксперт:	подпись: 	Селиверстова Маргарита Николаевна				ИИ	58%
Председатель жюри:	подпись: 	Жамшитова Марина Бауржановна					

**10 Класс
Тесты**

15 + 24,5 = ~~40~~ 39,5

1. Какой из указанных субъектов РФ не специализируется на добыче угля?

- а) Республика Коми б) Красноярский край в) Республика Саха (Якутия) г) Ростовская область д) Свердловская область

15

2. Глобальные изменения климата могут привести к таянию покровных ледников и повышению вследствие этого уровня Мирового океана. Какой из перечисленных субъектов России может в наибольшей степени пострадать в случае такого развития событий?

- а) Иркутская область
б) Кемеровская область
в) Чукотский автономный округ
г) Калининградская область

15

3. В каком государстве наиболее высока доля электроэнергии, вырабатываемой на гидроэлектростанциях?

- а) Норвегия; в) Россия;
б) Франция; г) Киргизия.

15

4. Почвы какого типа не встречаются в Калмыкии?

- а) Красно-желтые ферраллитные; в) Черноземные;
б) Бурые пустынные; г) Солончаки.

15

5. В какой республике России находится Иволгинский дацан?

- а) Бурятия; в) Тыва;
б) Хакассия; г) Калмыкия.

—

6. Геотермальная электростанция построена на полуострове:

- а) Таймыр
б) Камчатка
в) Кольском
г) Ямал

15

7. Какую часть территории России занимают болота?

- а) 6-8%; в) 12-15%;
б) 9-11%; г) 16-20%.

15

8. Для того, чтобы отпраздновать Новый год второй раз за сутки, нужно:

- а) пересечь нулевой меридиан с запада на восток;
б) пересечь нулевой меридиан с востока на запад;
в) пересечь экватор с севера на юг по линии перемены дат;
г) пересечь экватор с юга на север по линии перемены дат;
✓ д) пересечь сто восьмидесятый меридиан с запада на восток

9. Самая северная столица мира имеет географические координаты 64 с.ш. и 23 з.д. Назовите эту столицу.

- а) Москва; б) Вашингтон; в) Осло; г) Рейкьявик; д) Хельсинки; е) Оттава.

10. Выберите ресурсы, по запасам которых РФ занимает первое место в Мире:

- а) уголь; б) бокситы; в) апатиты; г) железная руда; д) пашня; е) лесные ресурсы.

11. Наибольший территориальный разрыв между районами добычи сырья и выплавки готового металла характерен для мирового производства:

- а) Cu; б) Al; в) Pb; г) Ni; д) Sn; е) Zn.

12. Наиболее протяжённой является сухопутная граница России с

- а) Монголией; б) Китаем;
в) Украиной; г) Казахстаном.

13. На языках какой языковой семьи разговаривает большая часть населения России?

- а) алтайской; б) индоевропейской;
в) уральской; г) кавказской.

14. Какая из перечисленных областей характеризуется самой высокой плотностью населения?

- а) Белгородская; б) Мурманская;
в) Амурская; г) Вологодская.

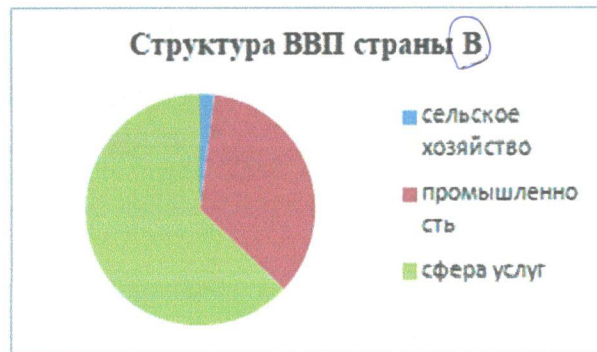
15. Среди перечисленных морей наиболее загрязнены

- а) Белое и Чёрное; б) Берингово и Охотское;
в) Восточно-Сибирское и Чукотское; г) Красное и Средиземное.

16. В какой из перечисленных возрастных групп населения России численность женского населения наиболее сильно преобладает над мужским?

- а) 30-40 лет; б) 40-50 лет;
в) 50-60 лет; г) 60-70 лет.

17. Какая из стран (А, В или С) находится на стадии постиндустриального развития?



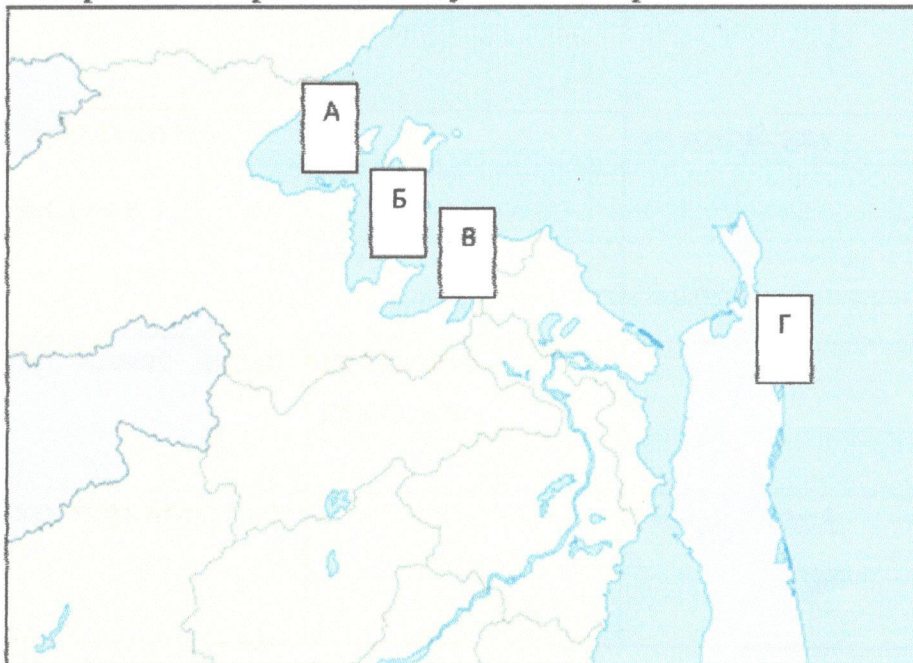
18. Наивысшая отметка высот в Хабаровском крае - гора:

- а) Топко б) г. Тордоки-Янги в) г. Берилл г) Город-Макит д) г. Ко

19. Какие горные системы из перечисленных расположены на территории Хабаровского края

- а) Джугджур б) Сунгар-Хаята
в) Сихотэ-Алинь г) Восточный Саян

20. На контурной карте буквами обозначены заливы, омывающие берега Хабаровского края. Какой буквой на карте обозначен Ульбанский залив?



Задания теоретического тура

Задание 1. Найдите на топографической карте (приложения) условные знаки, указанные в списке. Обведите условный знак на карте и напишите рядом его соответствующий номер.

Список условных знаков.

- 1) болото непроходимое с камышом
- 2) сосновый лес
- 3) березовый лес
- 4) мукомольный завод
- 5) каменный мост длиной 55, шириной 10 и грузоподъемностью 15
- 6) смешанный лес
- 7) самое высокое место на карте
- 8) церковь
- 9) памятник
- 10) урез воды р. Андога

90

Внимание! На карте могут встречаться несколько одинаковых топографических знаков, поэтому на Вашей карте могут быть несколько одинаковых цифр.

Задание 2. Заполните таблицу.

Горная система	Тектоническая структура	Складчатость	Зарубежный аналог
Алтай		герцинская	Тянь-Шань
Чукотское нагорье		мезозойская	
хр. Хамар-Дабан	складчато-глыбовая		
хр. Черского		мезозойская	

Срединный хр. на п-ове Камчатка	а	каймозейская	Анды, Альпы, Карпаты, Атлас, Пиренеи, Аляскинский хр., Береговые хребты и г.д.
---------------------------------------	---	--------------	--

Задание 3. Редакция одного из научно-популярных журналов стала готовить серию публикаций о традиционной экологической культуре и природных условиях обитания коренных малочисленных народов России, но в ходе подготовки произошел технический сбой, и часть материала оказалась потерянной. Помогите определить этнос по фрагменту описания среды его обитания:

"Расселены на огромной территории, простирающейся с запада на восток на несколько тысяч километров. На севере ареала – низменные территории с мохово-лишайниковой растительностью и широким развитием озер термокарстового происхождения. На юге – кустарниковая растительность, переходящая в угнетенные редколесья и низкорослые леса из ели и лиственницы".

1. Что это за этнос? *ненцы 15*
2. О каких природных зонах идет речь в описании? *тундра, лесотундра 15*
3. Укажите преобладающие на данной территории формы рельефа, имеющие зональную природу. *равнины*
4. Чем может быть представлено традиционное хозяйство в данных природно-зональных условиях? *оленеводство 0,5*
5. Какие отрасли хозяйства создают экологическую угрозу для "кормящих ландшафтов" искомого этноса? *крупно-газовая отрасль 0,5*
6. Укажите североамериканский этнос с подобным типом традиционного природопользования. *эскимосы 0,5*

Задание 4. Выберите из списка народы, которые до сих пор ведут кочевой (полукочевой) образ жизни, то есть значительную часть года постоянно перемещаются на значительные расстояния. Какие отрасли хозяйства требуют для каждого из этих народов существенных перемещений.

животноводство и охота требуют постоянного перемещения из одного места в другое 2,5

Для оставшихся народов выберите отрасли, связывающие их с традиционным использованием местных земельных ресурсов территории.

Народы: буряты, долганы, калмыки, селькупы, татары, эвенки

животноводство

1,5

1,5

Задание 5. В Хабаровском крае объявлен конкурс на лучший туристический маршрут. Используя предложенный фрагмент карты, составьте рекламный проспект маршрута с указанием мест посещения, форм передвижения и времени. Опишите его привлекательность. Придумайте рекламный слоган.

Необычный Сикте-Виль - рекламный слоган

Маршрут начинается в городе Хабаровске. Мыем свою группу берем машину и выезжаем из Хабаровска - это 1-2 дня времени. Далее мы едем по трассе Хабаровск - Комсомольск - на - Амуре. По пути мы посещаем интересные места, спускаемся к рекам и озерам возле них. Далее едем в сторону г. Торгоски - Яма. На самом деле высокая гора горной цепи "Сикте-Виль". И мы едем до горы идем пешком и спускаемся с нее, ^{и можем в горах} ^{едем} ^{есть} ^{деревья} ^{деревья} ^{на} ^{следующий} ^{день} ^{они} ^{уже} ^{там} ^{есть} ^{деревья} ^и ^{на} ^{длинах} ^{от} ^{ли-2} ^{Торгоски} ^{Яма} ^и ^{возвращаемся} ^в ^{лагерь} ¹ ^{день}. Далее при большой жарке людей можно сплавиться по Амуровидной долине Хабаровск - Комсомольск на Амуре (идем). И в конце этого дня вторая группа (кто не может сплавиться) подбирает первую, по пути на следующий день едут в Хабаровск ^{на машине} ^с ^{такой} ^{же} ^в ^{своей} ^{группе}.
Время всего маршрута - 5 дней.

55

95

Фрагмент учебной топографической карты

